



IES QUARTÓ DEL REI

DOSSIER DE FEINA PER A LA RECUPERACIÓ DE 1r D'ESO CURS 2019-2020

GEOGRAFIA I HISTÒRIA - 1r ESO

Alumne:

Curs i grup:

INSTRUCCIONS:

- 1. NO és obligatori presentar aquest dossier per poder aprovar però les preguntes de l'examen sortiran d'aquest dossier i si es presenta completat i correcte significarà el 40% de la nota de setembre.**
- 2. S'ha de lliurar completament emplenat el dia de l'examen de setembre (consultar el dia a la web del centre).**
- 3. Heu de lliurar el dossier de forma digital (podeu editar directament una còpia del document) o en paper i fet a mà (sols en el cas que no disposeu d'ordinador a casa). En aquest cas podeu enviar fotografies del treball fet al quadern.**
- 4. Podeu fer la feina amb l'ajuda de les diapositives de cada tema que teniu penjades al classroom i també cercant informació a la web.**

Tema 1. La Prehistòria.

1. Defineix els següents conceptes:

Prehistòria:

Paleolític:

Neolític:

Edat dels Metalls:

Hominització:


2. Fes una línia del temps amb les etapes de la Prehistòria.

3. Classifica els següents conceptes allà on calgui.

<i>Nomadisme</i>	<i>Hàbitat a l'aire lliure</i>	<i>Poblats fortificats</i>	<i>Societat bèl·lica</i>
<i>Megalitisme</i>	<i>Caça i recolecció</i>	<i>Noves ocupacions</i>	<i>Primeres desigualtats socials</i>
<i>Agricultura</i>	<i>Domesticació d'animals</i>	<i>Ceràmica</i>	<i>Només eines de pedra i os</i>

<u>Paleolític</u>	<u>Neolític</u>	<u>Edat dels Metalls</u>

4. Indica a quina etapa de la Prehistòria corresponen les següents manifestacions artístiques:



.....

.....

.....

5. Contesta a les següents preguntes sobre la Prehistòria a les Balears:

Quan arriben els primers pobladors?

Per què colonitzen les illes en una data tan tardana?

Quin hàbitat tenien?

Existia algun tipus de construcció megalítica?

On vivien a l'Edat dels Metalls?

Què és un talaiot?

Per què sabem que la societat balear de l'Edat dels Metalls era violenta?

TEMA 2. Les civilitzacions fluvials.

6. Pinta al mapa amb un color diferent l'àrea d'influència de les civilitzacions indicades. Fica el nom de cada una en negre i les dates aproximades d'inici i final del seu desenvolupament:

Mesopotàmia - Egipte - Grècia - Roma



7. Respon:

- Quin fet dona pas a l'inici de la Història Antiga? Com era?

- Per què s'anomenen *fluvials* les primeres civilitzacions que sorgeixen en aquest moment?

- Quins trets característics compartien aquestes civilitzacions?

MESOPOTÀMIA

8. Fes una línia del temps de Mesopotàmia. Inclou-hi els períodes, els personatges o ciutats i les dates més rellevants.

9. Fes un esquema amb la piràmide social de Mesopotàmia. Llavors, fes un comentari explicant-la.

10. Completa el text:

Els mesopotàmics varen ser grans constructors que utilitzaven principalment el i la com a materials. Varen inventar l'..... i la

Les ciutats estaven i les cases s'hi caòticament. No obstant, també tenien edificis considerats importants: el, que era la seu del govern, dels tribunals, i de les escoles; el, que eren enormes torres escalonades amb funcions i; o el, que era la residència del rei.

EGIPTE

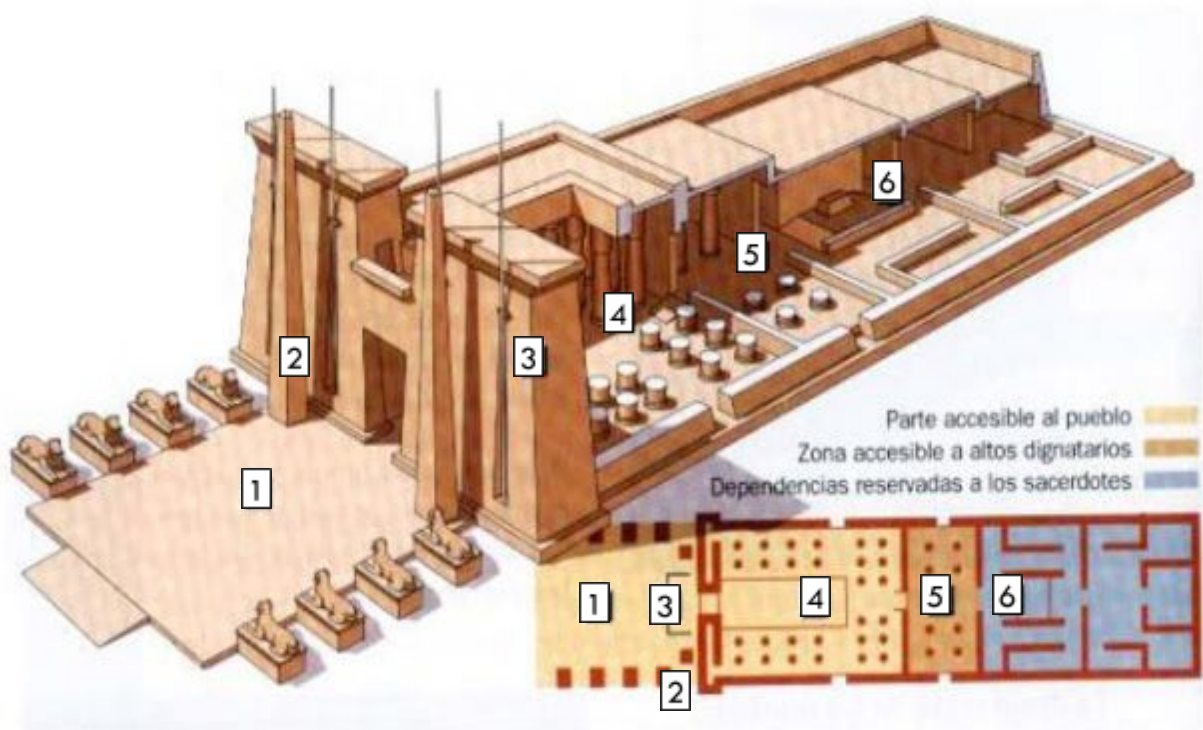
11. Fes una línia del temps de l'Antic Egipte. Inclou les etapes, els faraons, els fets i les dates més rellevants.

12. Indica el terme que correspon amb cada definició:

Dones *Artesans* *Faraó* *Dinastia* *Escribes* *Pagesos*
Comerciants *Nobles* *Esclaus* *Exèrcit* *Servents* *Sacerdots*

-: dirigien els ritus religiosos i administraven els temples.
-: persones que no tenien drets.
-: compraven béns a terres llunyanes i les venien a Egipte. Usaven el troc.
-: majoria de la població que es dedicava a l'agricultura.
-: governants d'una mateixa família.
-: nom amb el qual es coneixia al rei absolut de l'Antic Egipte.
-: membres de la família del faraó que regien les províncies en nom seu.
-: gaudien d'alguns drets que no tenien en altres civilitzacions antigues.
-: protegia les fronteres a canvi de terres.
-: feien feina per a un senyor a canvi d'un sou modest.
-: redactaven els documents reials i duien els comptes dels impostos.
-: tenien oficis variats per produir béns amb les seues mans.

13. Posa el nom de les parts al següent edifici:








- | | |
|----|----|
| 1. | 4. |
| 2. | 5. |
| 3. | 6. |

14. Classifica les següents afirmacions segons corresponguen a la religió mesopotàmica o egípcia. Algunes d'elles serveixen per a les dos civilitzacions:

	Mesopotàmia	Egipte
<i>Eren politeistes</i>		
<i>Els déus es manifestaven a través dels fenòmens meteorològics</i>		
<i>No creien en la vida després de la mort</i>		
<i>Creien en la vida d'ultratomba</i>		
<i>També consideraven déus el faraó, elements naturals, animals...</i>		
<i>Els ritus servien per fer funcionar el món</i>		

15. Uneix cada dibuix amb el seu nom i la seua definició. Utilitza nombres, no fletxes:

El ritu funerari egipci			
1. Mastaba			<i>Tomba subterrània excavada a una muntanya</i>
2. Piràmide			<i>Tomba on s'enterraven els faraons de l'Imperi Antic</i>
3. Hipogeu			<i>Tomba més antiga amb accés a la cambra per un pou</i>
4. Sarcòfag			<i>Objectes que acompanyen els difunts a la cambra funerària</i>
5. Mòmia			<i>Cadàver tractat i embenat per conservar-lo</i>

6. Aixovar			<i>Taüt on es col·locaven les mòmies</i>
------------	---	--	--

Tema 3. Grècia.

16. Fes una línia del temps de la Grècia antiga. Inclou-hi les etapes i dates més rellevants i els esdeveniments destacables de cada moment:

17. Completa la taula amb la comparativa de les institucions a Atenes i Esparta:

	ATENES	ESPARTA
Tipus de govern		
Assemblea		
Consell		
Justícia		(no n'hi ha)
Magistrats		

18. Explica amb l'ajuda del mapa com Alexandre el Gran va aconseguir el seu imperi:



19. Digues si les següents afirmacions sobre la religió grega són vertaderes o falses:

Un mite és una narració fantàstica que explica algun aspecte de la vida.

La religió grega era monoteista.

El lloc on es reunia l'assemblea de la ciutat rebia el nom d'oracle.

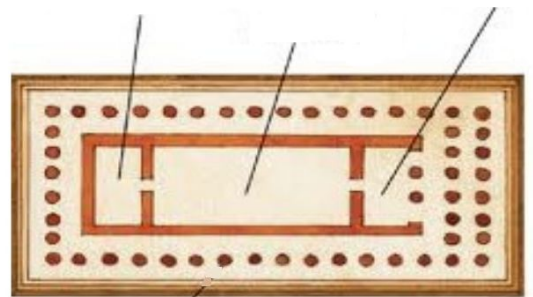
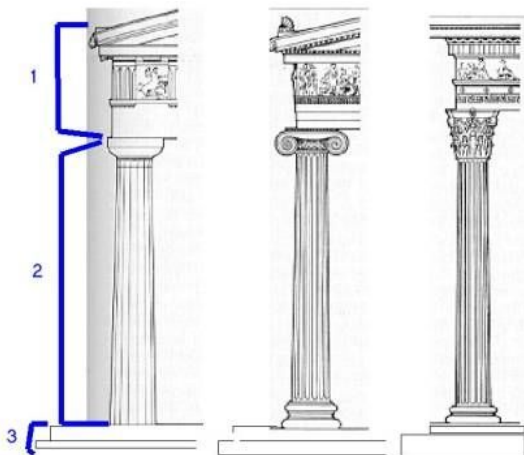

L'Olimp és la muntanya on residien els déus més importants.

Els ciutadans eren considerats els servents dels déus i els presentaven les ofrenes.

De la unió d'una divinitat i un mortal naixia un semidéu o heroi.

*Els déus eren immortals i antropomòrfics; a més, intervenien en la vida dels humans.
Als déus se'ls podia retre culte a casa, als temples de la polis o a grans santuaris.
Les Olimpíades eren una competició esportiva en honor d'atletes anteriors.
Els grecs negaven l'existència de criatures fantàstiques, com ara centaures o ciclops.*

20. Identifica els ordres arquitectònics, les parts del temple i l'etapa en que es varen crear aquestes escultures :



21. Explica com era la vida diària d'una dona o un esclau a una polis grega.

22. Indica el terme que correspon amb cada definició:

<i>Dracma</i>	<i>Jocs Olímpics</i>	<i>Ciutadans</i>
<i>Falange</i>	<i>Oracle</i>	<i>Guerra del Peloponès</i>
<i>Hel·lenisme</i>	<i>Polis</i>	<i>Guerres Mèdiques</i>
<i>Lliga de Delos</i>	<i>Aqueus</i>	<i>Àgora</i>
<i>Santuari</i>	<i>Hèl·lade</i>	<i>Canon</i>
<i>Acròpolis</i>	<i>Hoplita</i>	<i>Mite</i>

- : ciutat estat grega, amb unes lleis i exèrcit propis.
- : plaça al centre de la ciutat.
- : persones naturals d'una polis que tenien drets.
- : membres d'un poble guerrer de l'època micènica.
- : part elevada i emmurallada de la polis on estaven els temples.
- : moneda que feien servir els grecs.
- : era el nom que donaven els grecs al seu territori.
- : normes i proporcions escultòriques.
- : era l'exèrcit dels macedonis.
- : guerra entre Esparta i Atenes per controlar l'Hèl·lade.
- : narració fantàstica que explica alguna cosa sobre el món.
- : soldat grec que anava a peu.
- : celebracions esportives en honor d'algun déu.
- : lloc on es consultaven els déus.
- : alguns dels grans temples molt importants en tota l'Hèl·lade.
- : unió de polis per mantenir una flota i defensar-se dels atacs perses.
- : guerres entre les polis gregues i els perses.
- : fusió de la cultura grega amb les cultures asiàtiques de la zona per on es va expandir.

Tema 4. Yboshim

23. Fes una línia del temps del període estudiat de Yboshim, des de l'arribada dels primers cananeus fins a l'arribada dels Romans.

24.- Indica el terme que correspon amb cada definició:

Sa Caleta Gaulós Bes Tànit Ses Salines	Hipogeu Cananeu Kalathos Terracuita Na Guàrdis	Necròpolis Qart Hadasht Melqart Exvot Mercenaris
--	--	--

:Orifici excavat a la terra, normalment amb funcions funeràries.

: Vaixell comercial amb forma arrodonida i gran capacitat de càrrega propi del 1r mil·lenni a.n.e.

:Déu egipci de la fertilitat fraternal que arribà a Yboshim de la mà de comerciants cananeus.

:Assentament de comerciants yboshitans a una petita illa a la costa de Mallorca, a prop de les salines.

:Metròpolis cananea al nord d'Àfrica que arribà a controlar la Mediterrània occidental i central.

:Persones que lluiten en guerres a canvi d'un salari.

:Tècnica de treball del fang, per a funcions artístiques.

: Déu suprem i innominat dels cananeus.

:Ofrena que un creient li feia a un déu/deessa.

:Lloc de la nostra illa on s'assentaren els cananeus primer.

:Deesa cananea de la fertilitat i del cicle de la vida.

:Corona simbòlica que es solia posar a les imatges de Tànit.

:Salineres naturals que des de fa milers d'anys es treballa a Eivissa.

:Nom que es donaven a si mateixos els anomenats púnics.

:Cementiri antic.



25. Completa la següent taula sobre la possible organització política a Yboshim.

Institució o Magistratura	Membres	Funció
		Governar els afers propis de l'illa
	2 homes triats pel consell dels 104	

26. Completa el següent text sobre els interessos que tenien els yboshitans a Mallorca.

La proximitat entre Yboshim i Mallorca, així com l'extensió i densa població d'aquesta, la convertien en un objectiu _____ molt important. En tot cas, la necessitat de protegir-se de possibles _____ va fer que els comerciants yboshitans triesin assentaments _____, _____ en els que poder defensar-se en cas de necessitat com Na _____ o Na _____, ambdós a la costa _____ de Mallorca. Des d'aquests assentaments podien comerciar amb objectes _____ i canviar-los per matèries _____, aliments no peribles o esclaus. Una funció més d'aquests petits assentaments era la d'exercir com a enllaç amb els foners mallorquins que volguessin allistar-se als exèrcits cananeus com a _____ per a poder traslladar-los després a Yboshim o altres polis aliades.

27. Completa la següent taula sobre l'art a Yboshim.

Imatge	Nom	Funció
		
 <p data-bbox="132 1384 343 1400">RIVUSS. Duro de la Reina Takti.</p>		

28. Fes una redacció sobre la situació de les dones a Yboshim.