

ACTIVITATS DE REFORÇ DE 1r ESO

NOM I LLINATGES:

CURS:

TEMA 1: EL PLANETA TERRA

1- Respon a les preguntes següents:

a)- Recordes què és el Sistema Solar? (p4)

b)- Quins noms de planetes coneixes? (p4)

2- Completa les frases següents: (p5)

a)- El moviment de rotació és:

b)- El moviment de translació és:

3- Escull la paraula adequada per completar cada definició: (p7)

Paral·lels - Greenwich - meridians - Equador

- El meridià principal és el de.....
- El paral·lel 0 i de major circumferència és l'.....
- Els són semicercles imaginaris traçats de Nord a Sud.
- Els són cercles imaginaris perpendiculars a l'eix de la Terra.

4- Quina és la utilitat de l'escala d'un mapa?(p11)

5- Classifica els següents tipus de mapes: (p10)

mapa dels oceans del món - mapa de població - mapa provincial -
mapa de la Unió Europea - mapa de carreteres - mapa del relleu
espanyol

a)- Mapes físics:

b)- Mapes polítics:

c)- Mapes temàtics:

TEMA 2: EL RELLEU DE LA TERRA

1- **Recordes què són les plaques tectòniques? Què passa quan xoquen entre si?** (p21)

2- **Enumera els agents de formació del relleu que recordis.** (p22,24)

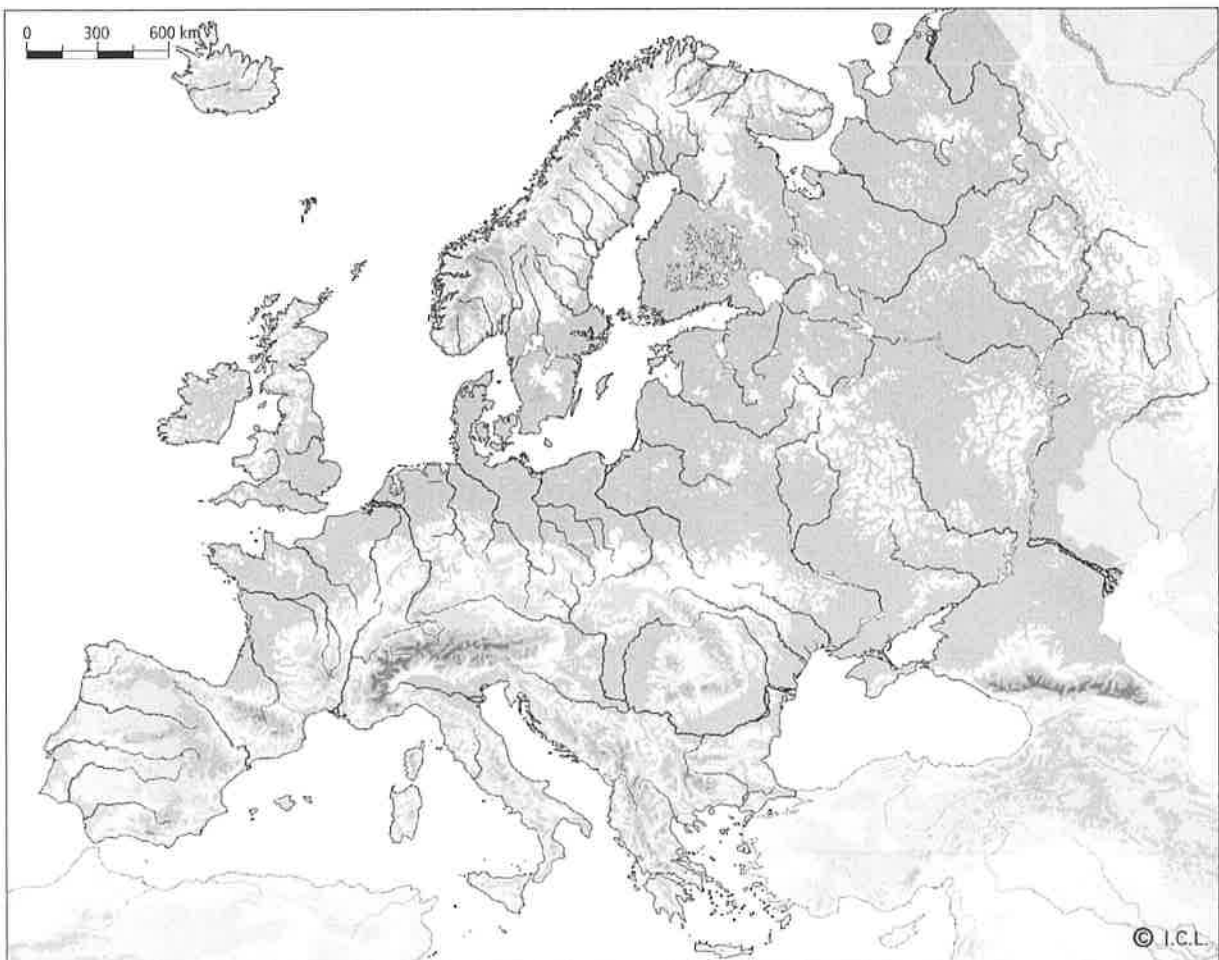
- Agents interns:

- Agents externs:

3- **Envolta amb un cercle les formes de relleu de costa.**(p26)

a. Cap b. Riac. Vall d. Plana e. Golf f. Altiplà

4- **Situa els accidents geogràfics que coneguis al mapa d'Europa següent.**(p30)



TEMA 3: LA HIDROSFERA

1- Relaciona cada paraula amb la seva definició:

Onada	Pujades i baixades del nivell de l'aigua del mar.
Marees	Grau de clorur sòdic que posseeix un mar o oceà.
Salinitat	Moviments d'aigües que semblen rius en els oceans.
Corrents marins	Ondulació que es produeix quan el vent agita el mar.

2-Escriu el nom de 5 rius i 2 llacs de cada un dels continents: (p48)

Àsia:

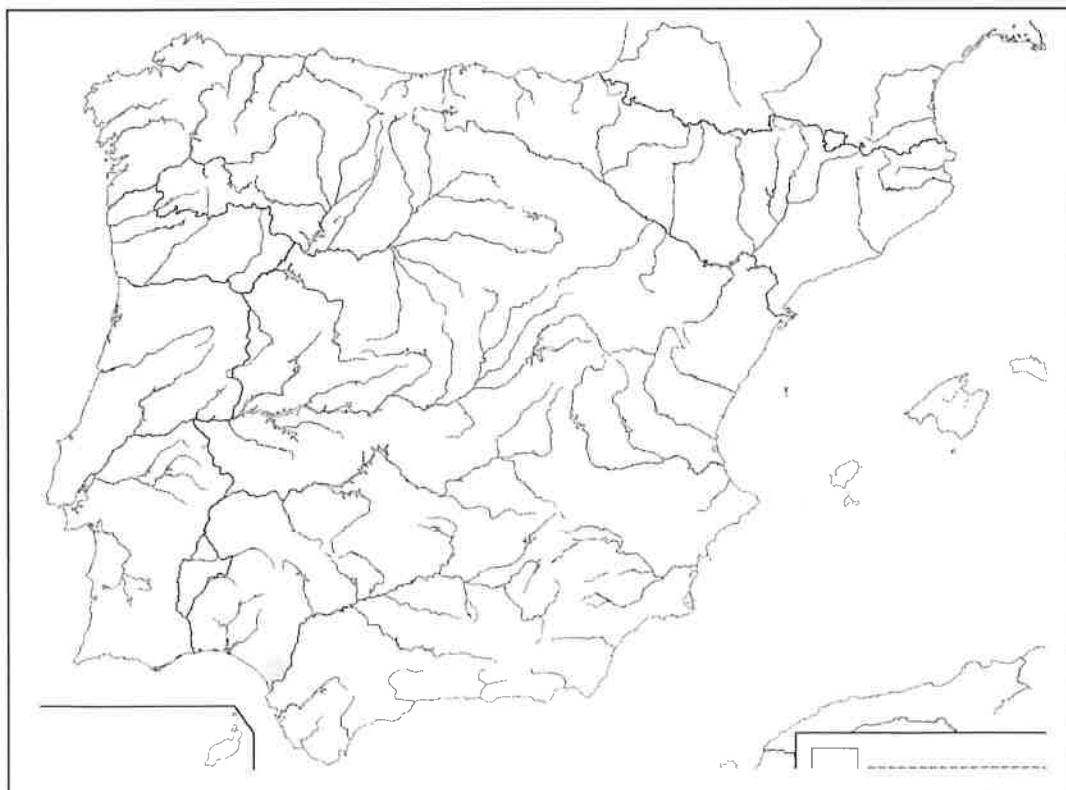
Àfrica:

Europa:

Amèrica:

Oceania:

3- Escriu el nom dels rius més importants amb ajuda del mapa de la pàgina 51 del llibre. Completa la llegenda sobre els vessants i acoloreix-los al mapa



The map shows the Iberian Peninsula with a network of rivers. To the right of the map is a legend for drainage basins (vessants). The legend consists of three rows, each with a rectangular box, the word 'Vessant', and a dotted line below it. The boxes are currently empty.

<input type="text"/>	Vessant
<input type="text"/>	Vessant
<input type="text"/>	Vessant

TEMA 4: EL TEMPS ATMOSFÈRIC

1- Contesta les preguntes següents: (p59)

a)- Què és el temps atmosfèric?

b)- Saps de quins elements depèn el temps atmosfèric d'un lloc de la Terra?

2- Tria la paraula adequada per completar cada definició (p62,64,66)

Higròmetre - pluviòmetre - pressió atmosfèrica - anemòmetre - penell

La es mesura amb el baròmetre.

L'instrument usat per mesurar la quantitat de pluja és

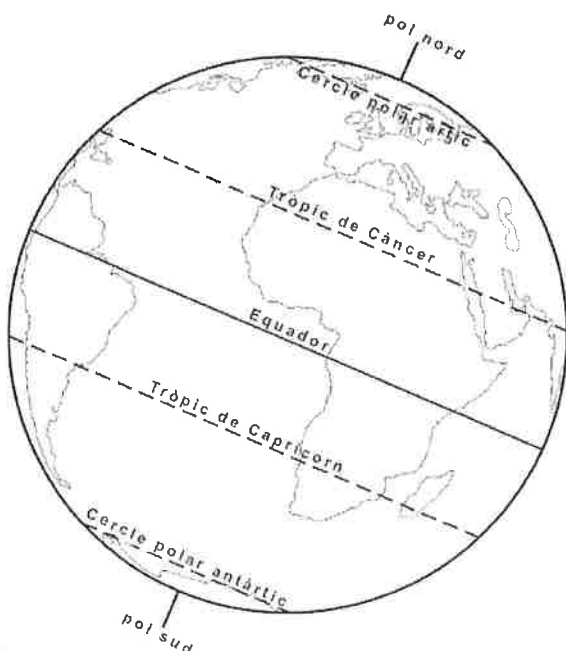
S'utilitza per mesurar la velocitat del vent:

Permet mesurar el grau d'humitat de l'aire

S'utilitza per indicar la direcció del vent

TEMA 5: ELS CLIMES DE LA TERRA

1- Acoloreix les zones climàtiques de la Terra, completa la llegenda i apunta-hi un paisatge característic de cada. (p77)



Zones climàtiques	Paisatge

Llegenda

2- Defineix : (p 77,90)

- **clima:**

- **Climograma:**

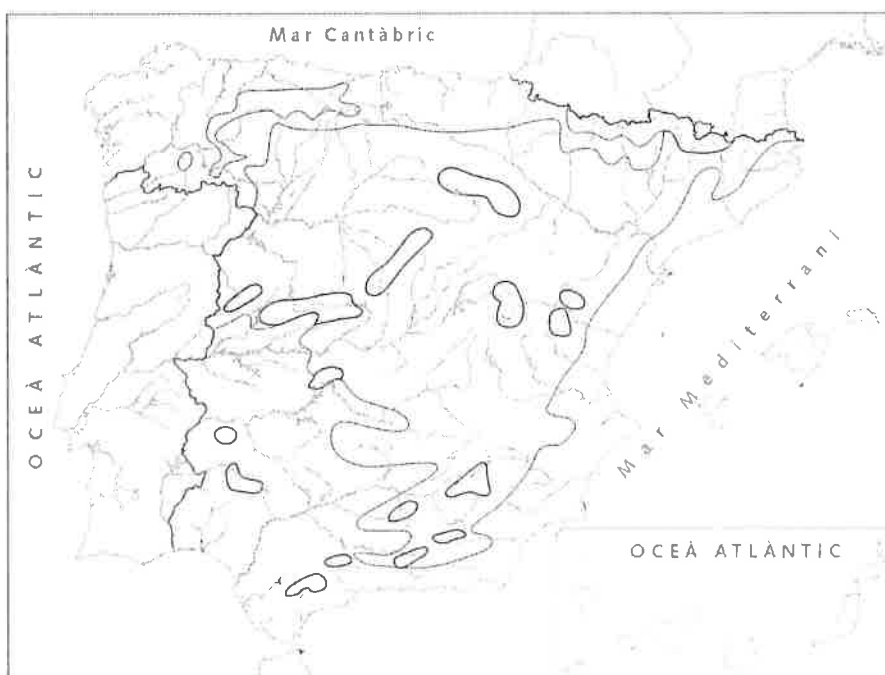
3- Explica com influeixen la latitud, l'altitud i la distància respecte al mar en la temperatura: (p78)

- Altitud:

- Latitud:

- Distància respecte al mar:

4- Acoloreix i etiqueta en el mapa següent els climes de l'Estat espanyol . (p84)



TIPUS DE CLIMES

6. Cordilleras Béticas

7. Cordillera
Cantábrica

8. Depresión del

TEMA 6: ELS PAISATGES DE CLIMES TEMPERATS

1- Relaciona cada clima amb la seva vegetació.

Mediterrani	Bosc caducifolis i landes
Oceànic	Tundra, molses i líquens
Continental	Alzines, alzines sureres, pins i matolls
Polar	Taigà, bosc mixt i estepes

2- Indica les característiques del paisatge mediterrani: (p 100)

- Localització geogràfica:
- Condicions naturals:
- Rius:
- Vegetació:

TEMA 7: PAISATGES DE CLIMES EXTREMS

1- Contesta les preguntes següents: (P 117)

Recordes quins són els paisatges extrems?

TEMA 9: LA PREHISTÒRIA

1- Respon a les preguntes següents: (P163)

- Quin esdeveniment principal es considera que marca el final de la Prehistòria?
- En quines etapes pot subdividir-se la Prehistòria?
- Quin tipus de restes materials ens permeten conèixer i estudiar aquest període?

2- Indica una característica fonamental sobre cada una de les tres grans etapes en què es divideix la Prehistòria: (p 166,168,170)

- Paleolític:
- Neolític:
- Edat dels Metalls:

3- Defineix els conceptes següents:

Nòmada:

Sedentari:

Megàlit:

Metal·lúrgia:

Art rupestre:

4- L'ésser humà és el resultat d'un lent procés d'hominització, que va durar milions d'anys. Explica els canvis físics que varen viure els humans durant aquest procés.(p164)

TEMA 10: EGIPTO I MESOPOTÀMIA

1- Defineix les paraules següents:

Faraó:

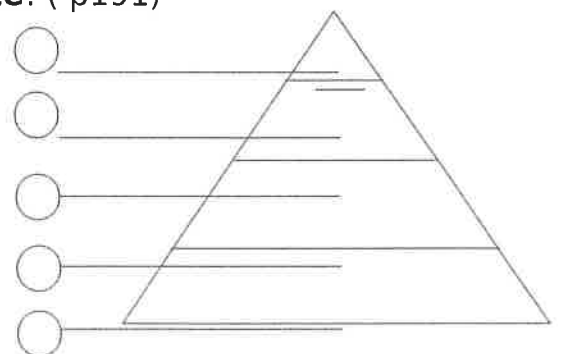
Jeroglífic:

Momificació:

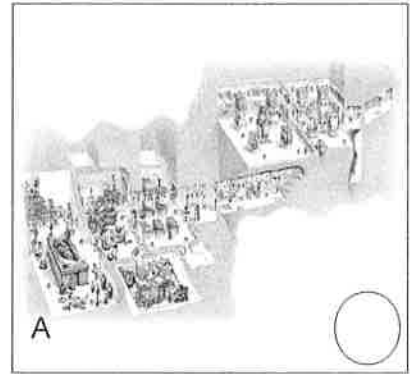
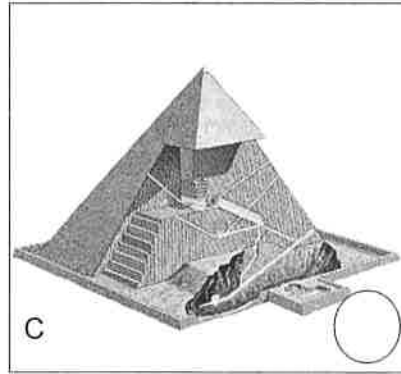
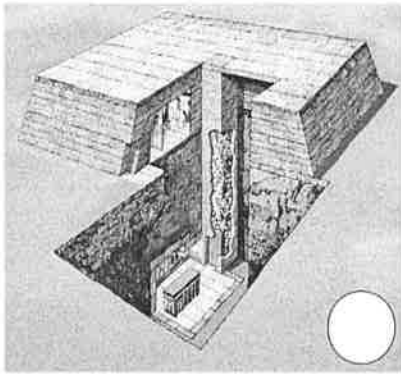
2- Descriu les característiques de l'escriptura egípcia i l'escriptura mesopotàmica.(p 187)

3- Indica a la piràmide social, seguint un ordre jeràrquic, la lletra que correspon als següents grups socials d'Egipte: (p191)

- a. Camperols.
- b. Alts funcionaris i escribes.
- c. Artesans i comerciants.
- d. Soldats.
- e. Faraó.



4-Identifica les imatges dels següents complexos funeraris egipcis i descriu-ne característiques principals:



A. Piràmide:

B. Hipogeu:

C. Mastaba:

TEMA 11: GRÈCIA

1- Esparta i Atenes varen ser dues de les més poderoses. Explica les característiques de les seves formes de govern: (p 208)

- **Democràcia:**

- **Oligarquia:**

2- **A Alexandre, fill del rei Filip de Macedònia, se li va donar el sobrenom de “el Gran”:** (p217, 219)

- A quin filòsof es va encomanar l'educació d'Alexandre?
- Quin tipus de govern va imposar Alexandre a Grècia?
- Quins territoris va conquerir?
- Què va succeir amb l'imperi d'Alexandre després de la seva mort?

3- **Què unia als grecs?** (p 206)

4- **Localitza al mapa les següents ciutats i elements geogràfics on es va desenvolupar la civilització grega i escriu els seus noms:** (p206)



Àsia Menor
Atenes
Troia
Mar Egeu
Mar Jònic
Peloponès
Macedònia
Esparta
Focea

5- **Explica les colonitzacions dels grecs**(p 212,213)

TEMA 12: CULTURA TALAIÒTICA I POBLES PREROMANS

1- **Descriu les característiques principals de les tres etapes de la cultura talaiòtica:** (p 226)

- Etapa arcaica:

- Etapa pretalaiòtica:

- Fase talaiòtica:

2- **Explica qui eren els fenicis, grecs i cartaginesos.** (p 230)

3- **Completa aquesta taula sobre els pobles ibers, celtes i celtibers:**
(p 236,238)

	Ibers	Celtes i celtibers
Economia		
Organització social		

TEMA 13: ROMA

1- Contesta les preguntes següents sobre l'Imperi romà:

- On es va originar la civilització romana?

- Qui varen ser Ròmul i Rem?

- Què eren les legions?

- Qui va ser Juli Cèsar? Qui el va assassinar?

2- Descriu els grups socials de l'antiga Roma: patricis i plebeus. (p 248)

3- Explica breument com i on es va originar el cristianisme: (p258)

4- Explica amb detall com i per què es va produir la desaparició de la civilització romana: (p 260,261)